


<b>Nombre:</b>		
<b>Meta:</b> Leer, contar, y representar números en el ámbito del 1 al 20 <b>OA:01-03</b>	<b>Curso:</b> 1° A 1° B	<b>Fecha:</b> Marzo Semana 4

- Responde esta guía, si necesitas ayuda pídele a un adulto que te apoye.
- Trabaja con material concreto, puede ser palitos de helados, fichas, botones, etc.
- Recuerda si no puedes imprimirlas; trabaja tu cuaderno de matemáticas.

### 1.- ¡Ahora vamos a contar! Apóyate en la huincha numérica

1	2	3	4	5	6	7	8	9	10	11	12	13	14	15	16	17	18	19	20
---	---	---	---	---	---	---	---	---	----	----	----	----	----	----	----	----	----	----	----



Recordemos:

- Cuando en una secuencia los números aumentan, se llama **ascendente**, porque se cuenta hacia adelante y para completar los números de la secuencia debo sumar (agregar).
- Cuando en una secuencia los números disminuyen, se llama **descendente**, porque se cuenta hacia atrás y para completar los números de la secuencia debo restar (quitar).

### 2.- Te desafío a contar en forma ascendente del 1 al 20.

**1 – 2 – 3 – 4 – 5 – 6 – 7 – 8 – 9 – 10 – 11 – 12 – 13 – 14 – 15 – 16 – 17 – 18 – 19 – 20**

Ahora en forma descendente:

**20-19-18...ahora sigue hasta llegar al 1**

**20 – 19 – 18 – 17 – 16 – 15 – 14 – 13 – 12 – 11 – 10 – 9 – 8 – 7 – 6 – 5 – 4 – 3 – 2 – 1**

### 3.- Hora de completar la huincha numérica:

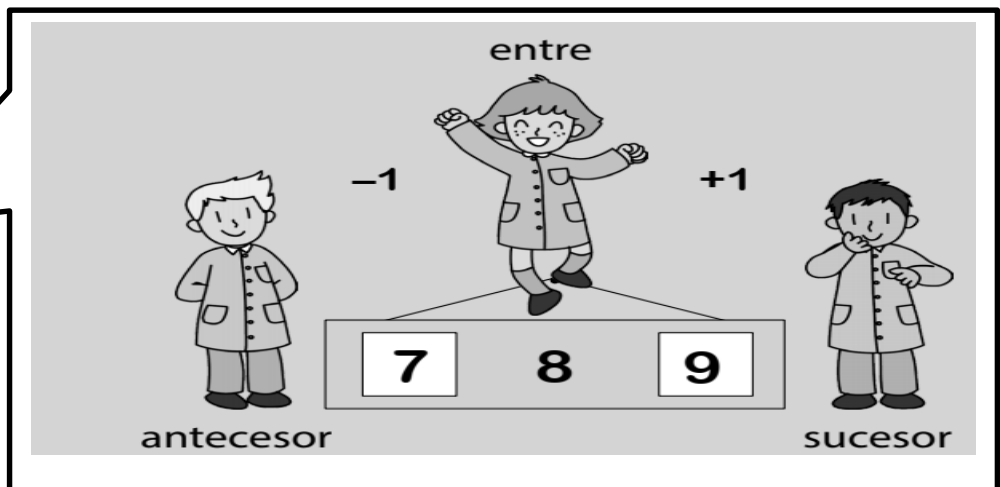

1	2	3	4	5	6	7	8	9	10	11	12	13	14	15	16	17	18	19	20
---	---	---	---	---	---	---	---	---	----	----	----	----	----	----	----	----	----	----	----

20	19	18	17	16	15	14	13	12	11	10	9	8	7	6	5	4	3	2	1
----	----	----	----	----	----	----	----	----	----	----	---	---	---	---	---	---	---	---	---

4.- ¡Ahora a contar! Escribe el número total de elementos en el .

Recuerda ir rayando cada elemento, cuanto vayas contando, para no equivocarse.

<p>a)</p> <div style="border: 1px solid black; display: inline-block; padding: 2px; margin-left: 100px;">12</div>	<p>b)</p> <div style="border: 1px solid black; display: inline-block; padding: 2px; margin-left: 100px;">13</div>
<p>c)</p> <div style="border: 1px solid black; display: inline-block; padding: 2px; margin-left: 100px;">14</div>	<p>d)</p> <div style="border: 1px solid black; display: inline-block; padding: 2px; margin-left: 100px;">15</div>



3.- Escribe en el recuadro un número que esté entre estos dos números:

8

9

10

17

18

19

13

14

15


5

6

7

4.- Dibuja la cantidad que representa cada número

9	
15	



¡Felicitaciones!  
Me ayudas a contar, pero en forma  
ascendente y descendente.  
¡MUY BIEN!